

2024 METŲ ISTORIJOS VALSTYBINIO BRANDOS EGZAMINO REZULTATŲ STATISTINĖ ANALIZĖ

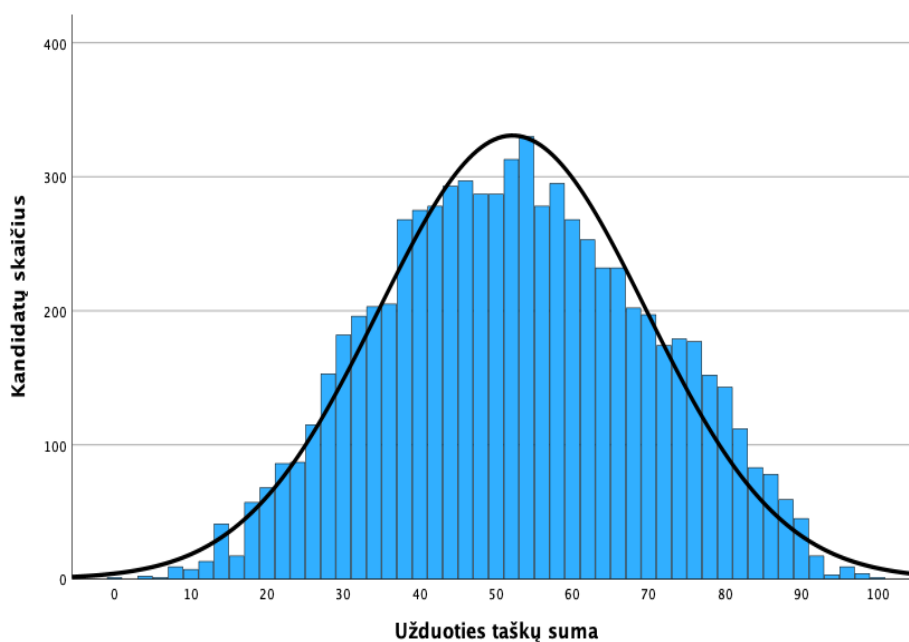
Bendroji dalis

2024 m. birželio 14 d. įvyko istorijos valstybinis brandos egzaminas. Jame dalyvavo ir įvertinimą gavo 7 264 kandidatai. 2024 m. birželio 28 d. įvyko pakartotinės sesijos istorijos valstybinis brandos egzaminas. Jame dalyvavo ir įvertinimą gavo 63 kandidatai.

Maksimali taškų suma, kurią galėjo surinkti laikantieji egzaminą, – 100 taškų. Minimali egzamino išlaikymo taškų sumos riba – 16 taškų. Tai sudarė 16 proc. visų galimų taškų. Istorijos valstybinio brandos egzamino neišlaikė 86 laikusieji (1,2 proc.). Šie kandidatai surinko nuo 0 iki 15 užduoties taškų.

Toliau pateikiama statistinė analizė yra pagrįsta 2024 m. pagrindinės sesijos istorijos valstybinį brandos egzaminą laikusiųjų ir gavusiųjų įvertinimą rezultatais.

Istorijos valstybinio brandos egzamino kandidatų surinktų užduoties taškų vidurkis yra 50,7 taško, taškų sumos standartinis nuokrypis yra 17,3. Šiomet daugiausia iš 100 galimų taškų buvo surinkta 98 taškai. Laikusių istorijos valstybinį brandos egzaminą kandidatų surinktų taškų pasiskirstymas pateiktas 1 diagramoje.

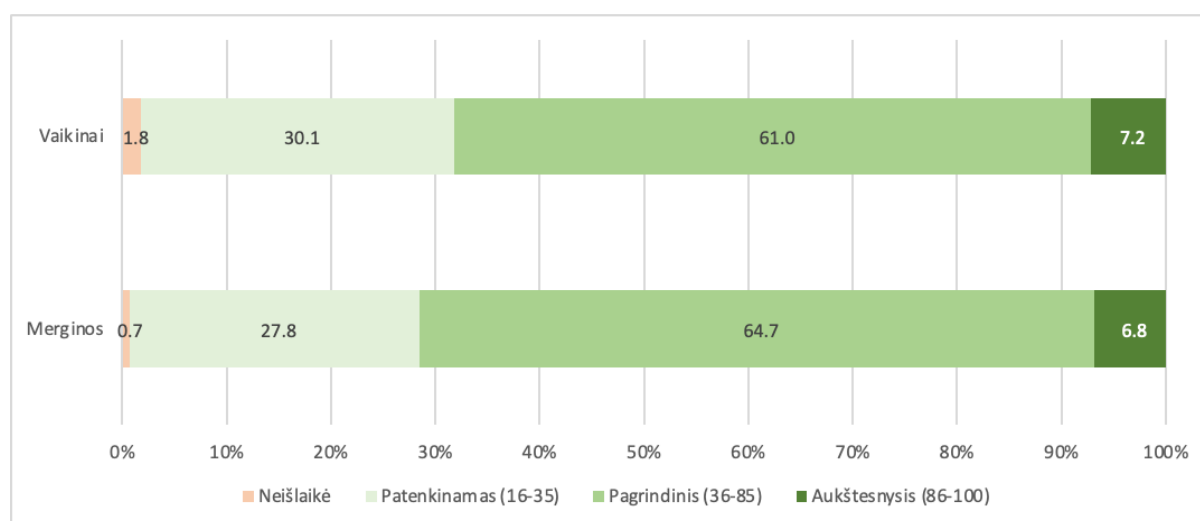


1 diagrama. Istorijos valstybinį brandos egzaminą laikusiųjų kandidatų surinktų taškų histograma

Merginos sudarė 58,1 proc. visų laikusiųjų egzaminą. Jos vidutiniškai surinko 51,3 užduoties taško. Vaikiniai vidutiniškai surinko 50 užduoties taškų. Tarp neišlaikiusiųjų egzamino buvo 28 merginos ir 54 vaikinai, tai sudaro atitinkamai 0,7 ir 1,8 proc.

Valstybinio brandos egzamino vertinimas yra kriterinis. Minimalus išlaikyto valstybinio brandos egzamino įvertinimas yra 16 balų, maksimalus – 100 balų. Šie balai į dešimtbalės skalės pažymį nėra verčiami. Jie įrašomi į kandidato brandos atestato priedą kaip valstybinio brandos egzamino įvertinimas. Visi kandidatai pagal gautą įvertinimą priskiriami vienam iš trijų pasiekimų lygių – patenkinamam, pagrindiniam ar aukštesniajam. Aukštesnįjį pasiekimų lygį pasiekė 7,0 proc. kandidatų, pagrindinį pasiekimų lygį pasiekė 63,2 proc., o patenkinamąjį – 28,7 proc. visų laikusiųjų egzaminą.

2 diagramoje pateiktas merginų ir vaikinių pasiskirstymas pagal pasiekimų lygius. Diagramoje prie pasiekimų lygio pavadinimo nurodyta, kiek valstybinio brandos egzamino balų jis atitinka.



2 diagrama. Merginų ir vaikinių rezultatų pasiskirstymas pagal pasiekimų lygius

Apibendrinus informaciją, esančią kandidatų darbuose, kiekvienam užduoties klausimui (ar jo daliai, jeigu jis sudarytas iš struktūrinių dalių) buvo nustatyti toliau pateikiami parametrai.

- **Klausimo sunkumas.** Jeigu klausimas buvo vertinamas vienu tašku, tai jo sunkumas tiesiogiai parodo, kuri dalis kandidatų į tą klausimą atsakė teisingai. Šį parametą išreiškia toks santykis:

$$\frac{\text{Visų kandidatų už šį klausimą surinktų taškų suma}}{\text{Visų už šį klausimą teoriškai galimų surinkti taškų suma}} \times 100$$

- **Klausimo skiriamoji geba.** Šis parametras rodo, kaip atskiras egzamino klausimas išskiria stipresnius ir silpnesnius kandidatus. Jei klausimas buvo labai lengvas ir į jį beveik vienodai sėkmingai atsakė ir stipresni, ir silpnesni kandidatai, tai tokio klausimo skiriamoji geba maža. Panaši skiriamoji geba gali būti ir labai sunkaus klausimo, į kurį beveik niekas neatsakė. Neigiama skiriamosios gebos reikšmė rodo, kad silpnesnieji (sprendžiant pagal visą egzamino užduotį) už tą klausimą surinko daugiau taškų negu stipresnieji. Taigi neigiama skiriamoji geba – prasto klausimo požymis.

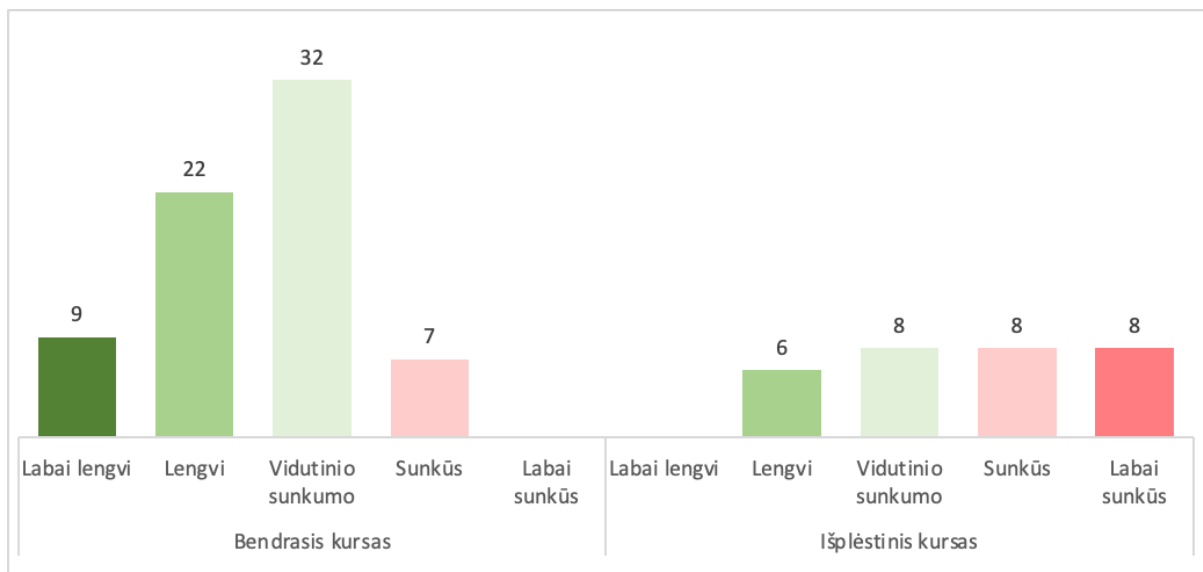
Pagal testų teoriją vidutinio sunkumo geri klausimai būna tie, kurių skiriamoji geba yra 40–50, o labai geri – kurių skiriamoji geba yra 60 ir daugiau. Tačiau siekiant įvairių didaktinių ir psichologinių tikslų kai kurie labai sunkūs arba labai lengvi klausimai vis tiek pateikiami teste, nors jų skiriamoji geba ir neoptimali.

- **Klausimo koreliacija su visa užduotimi.** Tai to klausimo surinktų taškų ir visų užduoties surinktų taškų koreliacijos koeficientas (apskaičiuojamas naudojant Pirsono koreliacijos koeficientą). Šis parametras rodo, kuria dalimi atskiras klausimas žinias ir gebėjimus matuoja taip, kaip ir visa užduotis.

Egzamino klausimai suskirstyti į 5 grupes pagal sunkumą, remiantis istorijos valstybinio brandos egzamino rezultatais:

- **LL** – labai lengvi,
- **L** – lengvi,
- **V** – vidutinio sunkumo,
- **S** – sunkūs,
- **LS** – labai sunkūs.

3 diagramoje pateikta, kaip klausimų sunkumas pasiskirstęs pagal bendrąjį ir išplėstinį kursus, remiantis egzamino rezultatais. Šioje diagramoje skaičiais nurodytas maksimalus taškų skaičius, kurį galima surinkti, atlikus tam tikro lygio užduotis. Iš diagramos matyti, kad dauguma bendrojo kurso užduočių istorijos egzaminą laikiusiems kandidatams buvo lengvos ir vidutinio sunkumo. Mokiniai rinko iki 9 labai lengvų taškų, kur į klausimus teisingai atsakydavo daugiau nei 80 %. Išplėstinio kurso užduotyje buvo sunkių ir labai sunkių klausimų. Visų istorijos valstybinio brandos egzamino užduočių parametrus suvestinė yra pateikta 1 lentelėje.



3 diagrama. Užduočių sunkumas pagal kursus (pateiktas galimas surinkti taškų skaičius)

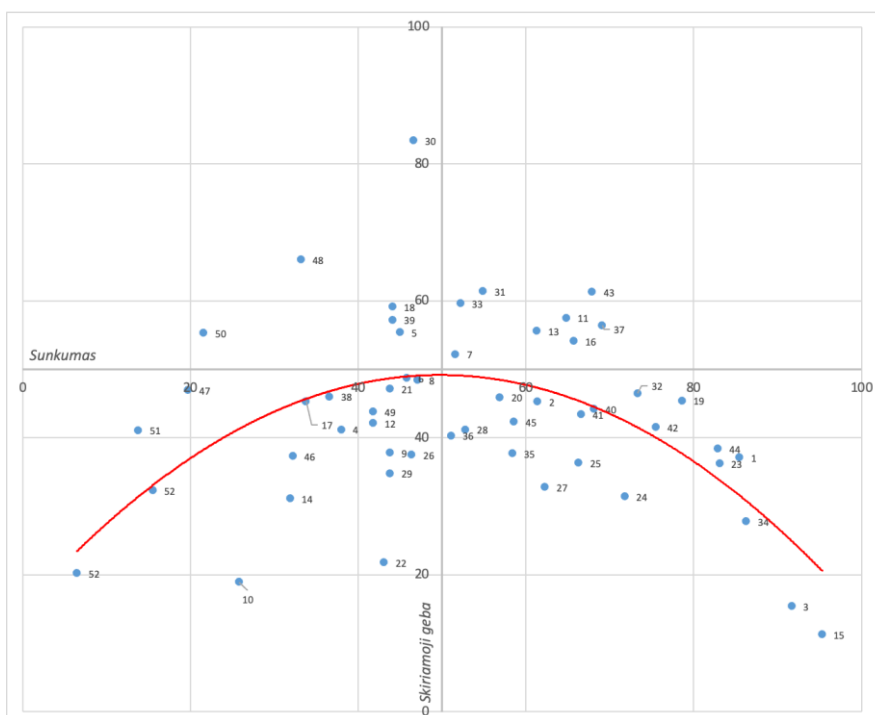
1 lentelė. Istorijos valstybinio brandos egzamino užduočių parametrus suvestinė

Dalis	Klausimo Nr.	Kursas	Maksimalus taškų skaičius	Sunkumas	Skiriamoji geba	Koreliacija
Testas	1	B	1	85,5 L L	37,1	0,424
	2	B	1	61,4 L	45,3	0,366

Dalis	Klausimo Nr.	Kursas	Maksimalus taškų skaičius	Sunkumas	Skiriamoji geba	Koreliacija		
	3	B	1	91,7	L	15,4	0,233	
	4	A	1	38,0	S	41,2	0,347	
	5	A	1	45,0	V	55,4	0,433	
	6	B	1	45,8	V	48,7	0,387	
	7	B	1	51,6	V	52,2	0,413	
	8	B	1	47,1	V	48,4	0,391	
	9	A	1	43,8	V	37,8	0,312	
	10	B	1	25,8	S	18,9	0,188	
	11	B	1	64,8	L	57,5	0,473	
	12	B	1	41,8	V	42,1	0,346	
	13	B	1	61,3	L	55,6	0,447	
	14	B	1	31,9	S	31,1	0,274	
	15	B	1	95,3	L	11,3	0,224	
	16	B	1	65,7	L	54,1	0,451	
	17	B	1	33,8	S	45,3	0,396	
	18	B	1	44,1	V	59,1	0,475	
	19	B	1	78,6	L	45,4	0,435	
	20	B	1	56,9	V	45,9	0,366	
	21	B	1	43,8	V	47,1	0,374	
	22	B	1	43,1	V	21,8	0,192	
	23	B	1	83,1	L	36,2	0,382	
	24	B	1	71,8	L	31,4	0,278	
	25	A	1	66,3	L	36,3	0,309	
	I šaltinių rinkinys	26	B	3	46,4	V	37,5	0,563
		27	B	4	62,3	L	32,8	0,558
28		B	4	52,8	V	41,2	0,555	
29		B	3	43,8	V	34,8	0,478	
30		B	1	46,6	V	83,4	0,654	
31		B	2	54,9	V	61,4	0,606	
32		B	1	73,3	L	46,5	0,424	
II šaltinių rinkinys	33	B	2	52,2	V	59,6	0,575	
	34	B	2	86,3	L	27,8	0,441	
	35	B	2	58,4	V	37,7	0,404	
	36	B	5	51,1	V	40,3	0,544	
	37	B	4	69,1	L	56,4	0,644	
	38	B	4	36,6	S	46,0	0,481	

Dalis	Klausimo Nr.	Kursas	Maksimalus taškų skaičius	Sunkumas	Skiriamoji geba	Koreliacija	
III šaltinių rinkinys	39	B	2	44,1	V	57,2	0,630
	40	B	3	68,1	L	44,2	0,645
	41	B	4	66,6	L	43,4	0,601
	42	A	2	75,5	L	41,5	0,540
	43	A	3	67,9	L	61,3	0,637
	44	B	3	82,9	L L	38,4	0,550
	45	A	2	58,6	V	42,3	0,450
IV šaltinių rinkinys	46	A	3	32,2	S	37,3	0,491
	47	A	2	19,7	L S	46,9	0,548
	48	A	2	33,2	S	66,0	0,647
	49	A	4	41,8	V	43,8	0,634
	50	A	2	21,6	S	55,3	0,631
	51	A	2	13,8	L S	41,1	0,587
	52	A	2	6,5	L S	20,2	0,425
	52	A	2	15,5	L S	32,3	0,522

Visų istorijos valstybinio brandos egzamino užduočių išsibarstymas pagal šių užduočių sunkumą ir skiriamąją gebą pavaizduotas 4 diagramoje. Joje taškeliais pavaizduotos užduotys, o raudona parabolės linija – užduotis atitinkanti regresijos kreivė.



4 diagrama. Istorijos valstybinio brandos egzamino užduočių sunkumo ir skiriamosios gebos išsibarstymo diagrama

Kiekviena užduotis ar jos dalis atspindi vieną iš šešių veiklos sričių, aprašytų istorijos brandos egzamino programoje. 2 lentelėje pateikta atskirų užduoties veiklos sričių tarpusavio koreliacija, koreliacija su bendra taškų suma, taip pat koreliacija su taškų suma be tos veiklos srities užduočių. Pagal vidutinius rezultatus (taškų vidurkis proc.) geresnių rezultatų mokiniai pasiekė, atlikdami pasaulio istorijos užduotis, palyginti su Lietuvos istorijos užduotimis. Pagal istorinį laikotarpį vidurinių, naujųjų amžių ar naujausiosios istorijos užduočių rezultatai labai panašūs, nežymiai išsiskiria naujųjų amžių istorijos temos.

2 lentelė. Veiklos sritys ir gebėjimų grupės

Veiklos sritys	Maksimalus taškų skaičius	Taškų vidurkis	Taškų vidurkis proc.	Koreliacija						
				Lietuvos istorija	Pasaulio istorija	Viduriniai amžiai	Naujieji amžiai	Naujausioji istorija	Bendra taškų suma (BTS)	BTS minus tema
Lietuvos istorija	50	22,5	45,0	-	0,825	0,723	0,933	0,914	0,957	0,825
Pasaulio istorija	50	29,6	59,3	0,825	-	0,894	0,792	0,919	0,953	0,825
Viduriniai amžiai	20	10,4	52,2	0,723	0,894	-	0,672	0,739	0,844	0,750
Naujieji amžiai	30	16,5	54,9	0,933	0,792	0,672	-	0,794	0,905	0,802
Naujausioji istorija	50	25,2	50,5	0,914	0,919	0,739	0,794	-	0,959	0,841

2024 m. ISTORIJS VALSTYBINIO BRANDOS EGZAMINO UŽDUOTIS

Klausimo Nr. 1

01. Kuriuo teiginiu yra apibrėžtas žmogaus teisių įgyvendinimas Lietuvoje pagal 1992 m. Lietuvos Respublikos Konstituciją?

- A** Žmogaus teises ir laisves suteikia Seimas.
- B** Žmogaus teisėmis ir laisvėmis naudojasi tik Europos Sąjungos piliečiai.
- C** Žmogaus teisės ir laisvės yra prigimtinės¹.
- D** Žmogaus teisėmis ir laisvėmis naudojasi tik Lietuvos Respublikos piliečiai.

Taškai	Sritis	Laikotarpis	Kursas
1	Lietuvos istorija	Naujausioji istorija	B (bendrasis kursas)

Atsakymų pasirinkimas (%)					Sunkumas	Skiriamoji geba	Koreliacija
A	B	C*	D	Neatsakė			
5,8	1,5	85,5	7,1	0,2	85,5	37,1	0,424

Klausimo Nr. 2

02. Kuris iš šių valstybės pareigūnų pagal 1992 m. Lietuvos Respublikos Konstituciją turi sustabdyti savo veiklą politinėje partijoje?

- A** Ministras Pirmininkas
- B** Respublikos Prezidentas
- C** Seimo Pirmininkas
- D** Švietimo ministras

Taškai	Sritis	Laikotarpis	Kursas
1	Lietuvos istorija	Naujausioji istorija	B (bendrasis kursas)

Atsakymų pasirinkimas (%)					Sunkumas	Skiriamoji geba	Koreliacija
A	B*	C	D	Neatsakė			
16,0	61,4	10,7	11,6	0,3	61,4	45,3	0,366

Klausimo Nr. 3

03. Kas pagal 1992 m. Lietuvos Respublikos Konstituciją sprendžia asmens, kurio konstitucinės teisės ir laisvės yra pažeistos, klausimus?

- A** Prezidentas
- B** Seimas
- C** Teismas
- D** Vyriausybė

<i>Taškai</i>	<i>Sritis</i>	<i>Laikotarpis</i>	<i>Kursas</i>
1	Lietuvos istorija	Naujausioji istorija	B (bendrasis kursas)

<i>Atsakymų pasirinkimas (%)</i>					<i>Sunkumas</i>	<i>Skiriamoji geba</i>	<i>Koreliacija</i>
<i>A</i>	<i>B</i>	<i>C*</i>	<i>D</i>	<i>Neatsakė</i>			
1,1	4,3	91,7	2,8	0,1	91,7	15,4	0,233

Klausimo Nr. 4

04. Kuris iš šių įvykių yra tiesioginis Lietuvos krikšto padarinys?

- A** Įkurtas Vilniaus universitetas.
- B** Į Lietuvą pakviesti jėzuitų vienuoliai.
- C** Lietuvoje įsteigtos² pirmosios mokyklos.
- D** Lietuvoje uždrausta išpažinti stačiatikybę.

<i>Taškai</i>	<i>Sritis</i>	<i>Laikotarpis</i>	<i>Kursas</i>
1	Lietuvos istorija	Viduriniai amžiai	A (išplėstinis kursas)

<i>Atsakymų pasirinkimas (%)</i>					<i>Sunkumas</i>	<i>Skiriamoji geba</i>	<i>Koreliacija</i>
<i>A</i>	<i>B</i>	<i>C*</i>	<i>D</i>	<i>Neatsakė</i>			
12,9	38,2	38,0	10,8	0,2	38	41,2	0,347

Klausimo Nr. 5

05. Kuris iš šių Vakarų Europos reiškinų priskiriamas Naujųjų amžių laikotarpiui?

- A** Geocentrinio pasaulėvaizdžio įtvirtinimas
- B** Heliocentrinės teorijos įtvirtinimas
- C** Pirmųjų mokyklų kūrimasis prie katedrų
- D** Pirmųjų universitetų kūrimasis

<i>Taškai</i>	<i>Sritis</i>	<i>Laikotarpis</i>	<i>Kursas</i>
1	Pasaulio istorija	Viduriniai amžiai	A (išplėstinis kursas)

<i>Atsakymų pasirinkimas (%)</i>					<i>Sunkumas</i>	<i>Skiriamoji geba</i>	<i>Koreliacija</i>
<i>A</i>	<i>B*</i>	<i>C</i>	<i>D</i>	<i>Neatsakė</i>			
24,1	45,0	5,3	25,4	0,3	45	55,4	0,433

Klausimo Nr. 6

06. Kuris teiginys apie Lietuvos Statutuose įtvirtintas nuostatas yra teisingas?

- A** Bajorams garantuota privilegija nebūti suimtiems be teismo sprendimo.
- B** Miestiečiams užtikrinta privilegija tapti aukščiausiais valstybės pareigūnais.
- C** Trečiajam luomui³ garantuota teisė įgyti žemės valdą.
- D** Valstiečiams užtikrintas asmens neliečiamumo principas.

<i>Taškai</i>	<i>Sritis</i>	<i>Laikotarpis</i>	<i>Kursas</i>
1	Lietuvos istorija	Naujieji amžiai	B (bendrasis kursas)

<i>Atsakymų pasirinkimas (%)</i>					<i>Sunkumas</i>	<i>Skiriamoji geba</i>	<i>Koreliacija</i>
<i>A*</i>	<i>B</i>	<i>C</i>	<i>D</i>	<i>Neatsakė</i>			
45,8	8,2	31,1	14,7	0,2	45,8	48,7	0,387

Klausimo Nr. 7

07. Kuris iš šių reiškinų Vakarų Europoje prasidėjo chronologiškai vėliausiai?

- A** Apšvietos⁴ sąjūdis
- B** Didieji geografiniai atradimai
- C** Kонтреформacijos sąjūdis
- D** Renesanso sąjūdis

<i>Taškai</i>	<i>Sritis</i>	<i>Laikotarpis</i>	<i>Kursas</i>
1	Pasaulio istorija	Naujieji amžiai	B (bendrasis kursas)

<i>Atsakymų pasirinkimas (%)</i>					<i>Sunkumas</i>	<i>Skiriamoji geba</i>	<i>Koreliacija</i>
<i>A*</i>	<i>B</i>	<i>C</i>	<i>D</i>	<i>Neatsakė</i>			
51,6	9,5	30,4	8,2	0,2	51,6	52,2	0,413

Klausimo Nr. 8

08. Kuris iš šių teiginių yra Žmogaus ir piliečio teisių deklaracijoje (1789 m.)?

- A** Karalius yra visų įstatymų šaltinis.
- B** Kiekvienas pilietis vadovaujasi civilinės teisės kodeksu.
- C** Suverenios valdžios šaltinis yra tauta.
- D** Valdovui reikia paklusti, nes taip liepia tikėjimas ir sąžinė.

<i>Taškai</i>	<i>Sritis</i>	<i>Laikotarpis</i>	<i>Kursas</i>
1	Pasaulio istorija	Naujieji amžiai	B (bendrasis kursas)

<i>Atsakymų pasirinkimas (%)</i>					<i>Sunkumas</i>	<i>Skiriamoji geba</i>	<i>Koreliacija</i>
<i>A</i>	<i>B</i>	<i>C*</i>	<i>D</i>	<i>Neatsakė</i>			
8,6	36,7	47,1	7,4	0,2	47,1	48,4	0,391

Klausimo Nr. 9

09. Po Vienos kongreso (1814–1815 m.) buvo įkurtos:

- A** Reino sąjunga ir Varšuvos kunigaikštystė
- B** Šiaurės Vokietijos sąjunga ir Besarabija
- C** Šv. Romos imperija ir Prūsijos karalystė
- D** Vokietijos sąjunga ir Lenkijos karalystė

<i>Taškai</i>	<i>Sritis</i>	<i>Laikotarpis</i>	<i>Kursas</i>
1	Pasaulio istorija	Naujieji amžiai	A (išplėstinis kursas)

<i>Atsakymų pasirinkimas (%)</i>					<i>Sunkumas</i>	<i>Skiriamoji geba</i>	<i>Koreliacija</i>
<i>A</i>	<i>B</i>	<i>C</i>	<i>D*</i>	<i>Neatsakė</i>			
37,6	12,2	6,3	43,8	0,2	43,8	37,8	0,312

Klausimo Nr. 10

10. Kurį nutarimą priėmė Abiejų Tautų Respublikos Ketverių metų seimas (1788–1792 m.)?

- A** Panaikinti Abiejų Tautų tarpusavio įžadą⁵.
- B** Paskelbti respubliką kaip valstybės valdymo formą.
- C** Sumažinti Abiejų Tautų Respublikos kariuomenę.
- D** Suteikti miestiečiams asmens neliečiamumo teisę.

<i>Taškai</i>	<i>Sritis</i>	<i>Laikotarpis</i>	<i>Kursas</i>
1	Lietuvos istorija	Naujieji amžiai	B (bendrasis kursas)

<i>Atsakymų pasirinkimas (%)</i>					<i>Sunkumas</i>	<i>Skiriamoji geba</i>	<i>Koreliacija</i>
<i>A</i>	<i>B</i>	<i>C</i>	<i>D*</i>	<i>Neatsakė</i>			
23,7	38,9	11,2	25,8	0,3	25,8	18,9	0,188

Klausimo Nr. 11

11. Kurios politinės ideologijos bruožai atsispindi pateiktoje ištraukoje?

Kiekvienam žmogui tol, kol jis nepažeidžia teisingumo įstatymų, paliekama visiška laisvė savaip siekti užsibrėžto tikslo ir savo veikla bei kapitalu konkuruoti su bet kurio kito žmogaus ar grupės žmonių veikla ar kapitalu.

- A** Konservatizmo
- B** Liberalizmo
- C** Nacionalizmo
- D** Socializmo

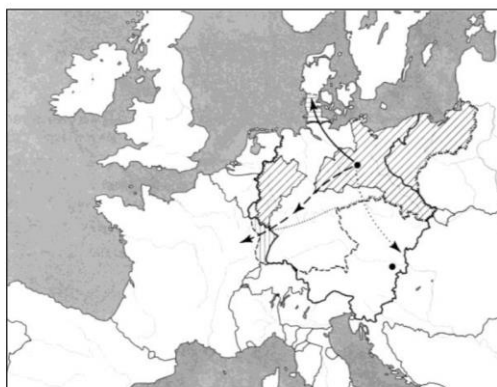
<i>Taškai</i>	<i>Sritis</i>	<i>Laikotarpis</i>	<i>Kursas</i>
1	Pasaulio istorija	Naujieji amžiai	B (bendrasis kursas)

<i>Atsakymų pasirinkimas (%)</i>					<i>Sunkumas</i>	<i>Skiriamoji geba</i>	<i>Koreliacija</i>
<i>A</i>	<i>B*</i>	<i>C</i>	<i>D</i>	<i>Neatsakė</i>			
11,1	64,8	7,0	17,0	0,1	64,8	57,5	0,473

Klausimo Nr. 12

12. Kuris istorinis procesas pavaizduotas žemėlapyje?

- A** Napoleono karai
- B** Pirmasis pasaulinis karas
- C** Reformacija
- D** Vokietijos vienijimas



<i>Taškai</i>	<i>Sritis</i>	<i>Laikotarpis</i>	<i>Kursas</i>
1	Pasaulio istorija	Naujieji amžiai	B (bendrasis kursas)

<i>Atsakymų pasirinkimas (%)</i>					<i>Sunkumas</i>	<i>Skiriamoji geba</i>	<i>Koreliacija</i>
<i>A</i>	<i>B</i>	<i>C</i>	<i>D*</i>	<i>Neatsakė</i>			
9,5	24,7	23,8	41,8	0,2	41,8	42,1	0,346

Klausimo Nr. 13

13. Kurią iš šių nuostatų įgyvendino Rusijos carinė valdžia Lietuvoje po 1863–1864 m. sukilimo?

- A** Silpninti vietos bajorijos vaidmenį visuomenėje.
- B** Skatinti vietos inteligentijos lietuvišką kultūrinę veiklą.
- C** Stiprinti valstiečių baudžiavinę priklausomybę.
- D** Stabdyti kolonistų kėlimąsi į Lietuvos teritoriją.

<i>Taškai</i>	<i>Sritis</i>	<i>Laikotarpis</i>	<i>Kursas</i>
1	Lietuvos istorija	Naujieji amžiai	B (bendrasis kursas)

<i>Atsakymų pasirinkimas (%)</i>					<i>Sunkumas</i>	<i>Skiriamoji geba</i>	<i>Koreliacija</i>
<i>A*</i>	<i>B</i>	<i>C</i>	<i>D</i>	<i>Neatsakė</i>			
61,3	3,6	28,9	6,0	0,2	61,3	55,6	0,447

Klausimo Nr. 14

14. Lietuvių spaudos draudimo laikotarpiu:

- A** įkurta Lietuvių mokslo draugija
- B** įkurta pirmoji Lietuvos politinė partija
- C** vyko Vilniaus konferencija
- D** vyko Didysis Vilniaus seimas

<i>Taškai</i>	<i>Sritis</i>	<i>Laikotarpis</i>	<i>Kursas</i>
1	Lietuvos istorija	Naujieji amžiai	B (bendrasis kursas)

<i>Atsakymų pasirinkimas (%)</i>					<i>Sunkumas</i>	<i>Skiriamoji geba</i>	<i>Koreliacija</i>
<i>A</i>	<i>B*</i>	<i>C</i>	<i>D</i>	<i>Neatsakė</i>			
42,4	31,9	12,2	13,1	0,3	31,9	31,1	0,274

Klausimo Nr. 15

15. Ant kurio litų banknoto pavaizduotas „Tautiškos giesmės“ autorius?



Taškai	Sritis	Laikotarpis	Kursas
1	Lietuvos istorija	Naujieji amžiai	B (bendrasis kursas)

Atsakymų pasirinkimas (%)					Sunkumas	Skiriamoji geba	Koreliacija
A	B	C	D*	Neatsakė			
1,2	0,9	2,5	95,3	0,1	95,3	11,3	0,224

Klausimo Nr. 16

16. Kuris nutarimas buvo priimtas 1919 m. Paryžiaus taikos konferencijoje?

- A** Apriboti Vokietijos karinį pajėgumą.
- B** Įkurti Jungtinių Tautų Organizaciją.
- C** Padalyti Vokietiją į VFR ir VDR.
- D** Pripažinti Lietuvos nepriklausomybę.

Taškai	Sritis	Laikotarpis	Kursas
1	Pasaulio istorija	Naujieji amžiai	B (bendrasis kursas)

Atsakymų pasirinkimas (%)					Sunkumas	Skiriamoji geba	Koreliacija
A*	B	C	D	Neatsakė			
65,7	23,2	7,0	3,9	0,2	65,7	54,1	0,451

Klausimo Nr. 17

17. Kuris įvykis **nesusijęs** su Antano Smetonos valdymu (1926–1940 m.)?

- A** Dirbo J. Tūbelio vadovaujama vyriausybė.
- B** Kaune įsteigta Lenkijos pasiuntinybė.
- C** Paleistas Lietuvos Respublikos III Seimas.
- D** Priimtas Žemės reformos įstatymas.

<i>Taškai</i>	<i>Sritis</i>	<i>Laikotarpis</i>	<i>Kursas</i>
1	Lietuvos istorija	Naujausioji istorija	B (bendrasis kursas)

<i>Atsakymų pasirinkimas (%)</i>					<i>Sunkumas</i>	<i>Skiriamoji geba</i>	<i>Koreliacija</i>
<i>A</i>	<i>B</i>	<i>C</i>	<i>D*</i>	<i>Neatsakė</i>			
13,8	40,7	11,6	33,8	0,2	33,8	45,3	0,396

Klausimo Nr. 18

18. Kurioje eilutėje išvardytose visose valstybėse Antrojo pasaulinio karo išvakarėse buvo įsigalėjusios diktatūros?

- A** Čekoslovakijoje, Ispanijoje, Suomijoje
- B** Ispanijoje, Lenkijoje, Vengrijoje
- C** Lenkijoje, Suomijoje, Švedijoje
- D** Prancūzijoje, Čekoslovakijoje, Vengrijoje

<i>Taškai</i>	<i>Sritis</i>	<i>Laikotarpis</i>	<i>Kursas</i>
1	Pasaulio istorija	Naujausioji istorija	B (bendrasis kursas)

<i>Atsakymų pasirinkimas (%)</i>					<i>Sunkumas</i>	<i>Skiriamoji geba</i>	<i>Koreliacija</i>
<i>A</i>	<i>B*</i>	<i>C</i>	<i>D</i>	<i>Neatsakė</i>			
12,9	44,1	8,6	34,2	0,3	44,1	59,1	0,475

Klausimo Nr. 19

19. Ko buvo siekiama, teikiant pagalbą valstybėms pagal Maršalo planą?

- A** Atkurti Antrojo pasaulinio karo nuniokotų Europos valstybių ūkį.
- B** Išplėsti Jungtinių Amerikos Valstijų politinę įtaką Pietryčių Azijoje.
- C** Sustiprinti Jungtinių Amerikos Valstijų politinius santykius su SSRS.
- D** Užkirsti kelią komunistinėms idėjoms plisti Lotynų Amerikoje.

<i>Taškai</i>	<i>Sritis</i>	<i>Laikotarpis</i>	<i>Kursas</i>
1	Pasaulio istorija	Naujausioji istorija	B (bendrasis kursas)

<i>Atsakymų pasirinkimas (%)</i>					<i>Sunkumas</i>	<i>Skiriamoji geba</i>	<i>Koreliacija</i>
<i>A*</i>	<i>B</i>	<i>C</i>	<i>D</i>	<i>Neatsakė</i>			
78,6	4,4	8,2	8,5	0,2	78,6	45,4	0,435

Klausimo Nr. 20

20. Kuris įvykis pavaizduotas karikatūroje „Paukščių stebėtojas“?



- A** Berlyno padalijimas į okupacines zonas
- B** Berlyno vakarinių okupacinių zonų blokada
- C** Sienos tarp Vakarų ir Rytų Berlyno pastatymas
- D** Vakarų ir Rytų Berlyno sujungimas

Ant nešulių užrašyta „Maistas“, „Anglys“,
ant pastatų užrašyta „Berlynas“.

<i>Taškai</i>	<i>Sritis</i>	<i>Laikotarpis</i>	<i>Kursas</i>
1	Pasaulio istorija	Naujausioji istorija	B (bendrasis kursas)

<i>Atsakymų pasirinkimas (%)</i>					<i>Sunkumas</i>	<i>Skiriamoji geba</i>	<i>Koreliacija</i>
<i>A</i>	<i>B*</i>	<i>C</i>	<i>D</i>	<i>Neatsakė</i>			
12,7	56,9	26,7	3,5	0,1	56,9	45,9	0,366

Klausimo Nr. 21

21. Kurios istorinės asmenybės atsiminimų ištrauka yra šis tekstas?

1984 m. pavasarį į Permės lagerį atvyko tardytojas [...] ir pakvietė pokalbio. Po kurio laiko atsisuko į mane ir pasakė: „Jūs buvote „Lietuvos Katalikų Bažnyčios kronikos“ redaktorius.“ Tikriausiai tikėjosi, kad, būdamas nuteistas, prisipažinsiu. „Ar „Lietuvos Katalikų Bažnyčios kronika“ jau neina?“ – paklausiau. „Eina“, – išgirdau atsakymą, kuris buvo ne mažiau brangus kaip kalinio duona.

- A** Juozo Lukšos-Daumanto
- B** Vincento Sladkevičiaus
- C** Sigito Tamkevičiaus
- D** Antano Terlecko

<i>Taškai</i>	<i>Sritis</i>	<i>Laikotarpis</i>	<i>Kursas</i>
1	Lietuvos istorija	Naujausioji istorija	B (bendrasis kursas)

<i>Atsakymų pasirinkimas (%)</i>					<i>Sunkumas</i>	<i>Skiriamoji geba</i>	<i>Koreliacija</i>
<i>A</i>	<i>B</i>	<i>C*</i>	<i>D</i>	<i>Neatsakė</i>			
23,0	13,4	43,8	19,6	0,2	43,8	47,1	0,374

Klausimo Nr. 22

22. XX a. aštuntojo–devintojo dešimtmečių sovietinėje Lietuvoje:

- A** nutraukta Lietuvos komunistų partijos veikla
- B** nuslopintas pogrindinis disidentinis judėjimas
- C** tikintiesiems gražintos visos uždarytos bažnyčios
- D** viešajame gyvenime vykdoma rusifikacijos politika

<i>Taškai</i>	<i>Sritis</i>	<i>Laikotarpis</i>	<i>Kursas</i>
1	Lietuvos istorija	Naujausioji istorija	B (bendrasis kursas)

<i>Atsakymų pasirinkimas (%)</i>					<i>Sunkumas</i>	<i>Skiriamoji geba</i>	<i>Koreliacija</i>
<i>A</i>	<i>B</i>	<i>C</i>	<i>D*</i>	<i>Neatsakė</i>			
21,5	17,8	17,3	43,1	0,3	43,1	21,8	0,192

Klausimo Nr. 23

23. Kuris Šaltojo karo laikų konfliktas pavaizduotas šioje karikatūroje?



- A** Afganistano karas
- B** Karibų krizė
- C** Korėjos karas
- D** Vietnamo karas

<i>Taškai</i>	<i>Sritis</i>	<i>Laikotarpis</i>	<i>Kursas</i>
1	Pasaulio istorija	Naujausioji istorija	B (bendrasis kursas)

<i>Atsakymų pasirinkimas (%)</i>					<i>Sunkumas</i>	<i>Skiriamoji geba</i>	<i>Koreliacija</i>
<i>A</i>	<i>B*</i>	<i>C</i>	<i>D</i>	<i>Neatsakė</i>			
7,4	83,1	4,6	4,8	0,1	83,1	36,2	0,382

Klausimo Nr. 24

24. Kurios organizacijos steigimą atspindi⁶ ši sutarties ištrauka?

Šios Sutarties Šalys patvirtina savo tikėjimą Jungtinių Tautų Chartijos tikslais ir principais bei troškimą taikiai sugyventi su visomis vyriausybėmis. Jos yra įsipareigojusios saugoti savo tautų laisvę, bendrą paveldą ir civilizaciją, grindžiamą⁷ demokratijos, asmens laisvės bei teisės viešpatavimo⁸ principais. Jos siekia didinti stabilumą ir gerovę Šiaurės Atlanto regione. Jos yra pasiryžusios suvienyti savo pastangas kolektyvinės gynybos bei taikos ir saugumo išsaugojimo labui⁹.

- A** Europos Sąjungos
- B** Jungtinių Tautų
- C** NATO
- D** Varšuvos sutarties

<i>Taškai</i>	<i>Sritis</i>	<i>Laikotarpis</i>	<i>Kursas</i>
1	Pasaulio istorija	Naujausioji istorija	B (bendrasis kursas)

<i>Atsakymų pasirinkimas (%)</i>					<i>Sunkumas</i>	<i>Skiriamoji geba</i>	<i>Koreliacija</i>
<i>A</i>	<i>B</i>	<i>C*</i>	<i>D</i>	<i>Neatsakė</i>			
7,3	19,5	71,8	1,3	0,1	71,8	31,4	0,278

Klausimo Nr. 25

25. Kelintų metų situacija pavaizduota karikatūroje „Grįžimas į Europą“?



- A 1944–1945 m.
- B 1955 m.
- C 1989–1990 m.
- D 2004 m.

Ant žmonių figūrų parašyti šalių pavadinimai:
 Vengrija, Lenkija, Rumunija, VDR (Vokietijos
 Demokratinė Respublika), ČSSR (Čekoslovakijos
 Socialistinė Respublika), Bulgarija.

Taškai	Sritis	Laikotarpis	Kursas
1	Lietuvos istorija	Naujausioji istorija	A (išplėstinis kursas)

Atsakymų pasirinkimas (%)					Sunkumas	Skiriamoji geba	Koreliacija
A	B	C*	D	Neatsakė			
7,9	9,5	66,3	16,1	0,2	66,3	36,3	0,309

A šaltinis (*Iš Lietuvos didžiojo kunigaikščio Kazimiero privilegijos*)

6. Taip pat minėti kunigaikščiai, ponai, kilmingieji ir miestiečiai savo tėvoniniams¹⁰ turtams ar šviesiausiojo kunigaikščio, valdovo Aleksandro, kitaip Vytauto, amžino atminimo pirmtako ir brangiausio mūsų dėdės, jiems duotiems ar dovanotiems [...] tegul turi laisvą galimybę juos parduoti, keisti, atiduoti, dovanoti ir pagal savo nuožiūrą savo reikalams naudoti. [...]

10. Taip pat visi ir atskiri šių Lietuvos Didžiosios Kunigaikštystės žemių kunigaikščių, ponų, kilmingųjų, bajorų ir miestiečių valstiečiai [...] atleisti nuo bet kokio davimo ir mokėjimo rinkliavos arba mokesčio [...]. Tačiau senovinius ir nuo seno įprastus mums [valdovui] ir mūsų įpėdiniams¹¹ patarnavimus [...], kelių priežiūrą paliekame neliečiamą ir norime, kad tai visuomet pasiliktu galioje. [...]

13. Taip pat pažadame ir įsipareigojame, kad minėtos mūsų Lietuvos Didžiosios Kunigaikštystės valdomų sričių bei žemių nesumažinsime. [...]

14. Taip pat pažadame ir įsipareigojame, kad tos Didžiosios Kunigaikštystės tose mūsų žemėse jokiam svetimšaliui mes neduosime ir mūsų įpėdiniai neduos žemių, pilių, miestų ar bet kurių dvarų valdyti ir laikyti, taip pat bet kurių pareigybių ir titulų, tik duosime laikyti ir valdyti [...] mūsų žemių vietiniams gyventojams.

B šaltinis (*Iš Lietuvos didžiojo kunigaikščio Kazimiero privilegijos Trakų karaimams*)

Atkreipę mūsų dėmesį į mūsų Trakų karaimų skurdą ir nuostolius, [...] mes suteikiame jiems vokiečių Magdeburgo teisę ir šiuo raštu ją dovanojame. [...] Taigi minėtieji Trakų karaimai nei svarbiose, nei menkesnėse bylose teneatsako niekam kitam, tik vaitui. [...] Vaitas turi teisę teisti karaimus ir įvykdyti savo nuosprendžius. [...] Be to, niekas iš mūsų vaivadų, seniūnų ar vietininkų neturi kištis į tų karaimų Magdeburgo teisę. [...] Taip pat aukščiau minėtieji Trakų karaimai privalo kartą per metus mokėti mums ir mūsų įpėdiniams tokį činšą ir mokesčius, kokius moka kiti miestai, kurie naudojasi Magdeburgo teise.

C šaltinis (*Iš Lietuvos didžiojo kunigaikščio Aleksandro privilegijos Vilniaus siuvėjams*)

Šiuo raštu pareiškiame [...] įsteigti siuvėjų amatui¹² ir visiems Vilniaus mieste besiverčiantiems¹³ broliją ir teises, arba statutą [...].

1. [...] Vyresnieji [...] išrinks arba paskirs meistrus, pirmiau pakankamai patikrinę jų mokėjimą amato. [...]

4. Kitų amatų, pavyzdžiui, kailiadirbių, gelumbių apkarpytojų¹⁴ ar kurio kito amato, žmonės tegu nedrįsta verstis¹⁵ siuvėjų amatu. [...]

6. Kalbamuoju siuvėjų amatu negalės verstis bet kurie siuvėjai, neįrašyti ir nepriimti į Vilniaus miesto broliją, lygiai ir tie, kurie nenorėtų paklusti kalbamosios brolijos statutui arba gyventų namuose, kurie priklauso nuo pilies teisės arba visokių dvasinių, pasaulietinių ar šlėktų teisių.

D šaltinis (*Iš Lietuvos didžiojo kunigaikščio Aleksandro privilegijos*)

14. Taip pat kokius tik nutarimus ir dalykus su ponais mūsų tarėjais baigsime, nustatysime ir nuspręsimė, tų su niekuo neprivalėsime pakeisti, pataisyti arba panaikinti. [...]

16. Taip pat dignitorijas*, sričių valdymą ir visas kitas pareigybes arba paveldimą turtą turėsime suteikti ne svetimšaliui arba ateiviui, bet tiktai vietiniams. [...]

23. Taip pat muitai, smuklių mokesčiai ir kiti mokesčiai, kuriuos mes gauname iš baudų ir iš bet kur, tebūna imami ir įnešami į mūsų išdą, ir šitie mokesčiai turi būti panaudoti pagal mūsų tarėjų nutarimus bendrai krašto gerovei. Nesant jokio būtino reikalo, minėtų mokesčių be pačių ponų valios mes negalime iš išdo išimti.

* dignitorija – aukšto rango LDK valstybės pareigūno (dignitoriaus) pareigybė

Klausimo Nr. 26

26. Nurodykite dvi teises, kurias didysis kunigaikštis Kazimieras suteikė A šaltinyje išvardytiems visuomenės sluoksniams. Kokių pasekmių didžiojo kunigaikščio galioms turėjo šių teisių įgyvendinimas?

Juodraštis

Teisės:

1.

2.

Pasekmės

.....

(3 taškai)

<i>Taškai</i>	<i>Sritis</i>	<i>Laikotarpis</i>	<i>Kursas</i>
3	Lietuvos istorija	Viduriniai amžiai	B (bendrasis kursas)

<i>Taškų pasiskirstymas (%)</i>					<i>Sunkumas</i>	<i>Skiriamoji geba</i>	<i>Koreliacija</i>
<i>0</i>	<i>1</i>	<i>2</i>	<i>3</i>				
13,1	42,6	36,3	8,0		46,4	37,5	0,563

Klausimo Nr. 27

27. Nurodykite tris didžiojo kunigaikščio Kazimiero įsipareigojimus, užtikrinusius LDK politinį savarankiškumą (A šaltinis). Kokia politinė priežastis lėmė, kad šie įsipareigojimai buvo įteisinti privilegijoje?

Juodraštis

Įsipareigojimai:

1.

2.

3.

Priežastis

.....

(4 taškai)

<i>Taškai</i>	<i>Sritis</i>	<i>Laikotarpis</i>	<i>Kursas</i>
4	Lietuvos istorija	Viduriniai amžiai	B (bendrasis kursas)

<i>Taškų pasiskirstymas (%)</i>					<i>Sunkumas</i>	<i>Skiriamoji geba</i>	<i>Koreliacija</i>
<i>0</i>	<i>1</i>	<i>2</i>	<i>3</i>	<i>4</i>			
4,9	7,6	33,5	41,4	12,7	62,3	32,8	0,558

Klausimo Nr. 28

28. Kokį juridinį statusą Trakų karaimų bendruomenei užtikrino B šaltinyje minima Magdeburgo teisė? Remdamiesi šaltiniu ir žiniomis, nurodykite du šios teisės turėtojo bruožus. Kuo buvo naudinga didžiajam kunigaikščiui miestiečių bendruomenėms suteikti Magdeburgo teisę?

Juodraštis

Juridinis statusas

Bruožai:

1.

2.

Nauda didžiajam kunigaikščiui

.....

(4 taškai)

<i>Taškai</i>	<i>Sritis</i>	<i>Laikotarpis</i>	<i>Kursas</i>
4	Lietuvos istorija	Viduriniai amžiai	B (bendrasis kursas)

<i>Taškų pasiskirstymas (%)</i>					<i>Sunkumas</i>	<i>Skiriamoji geba</i>	<i>Koreliacija</i>
<i>0</i>	<i>1</i>	<i>2</i>	<i>3</i>	<i>4</i>			
12,1	19,0	27,8	28,0	13,2	52,8	41,2	0,555

Klausimo Nr. 29

29. Nurodykite du Vilniaus siuvėjų brolijos įsteigimo tikslus (C šaltinis). Kuo miestiečiams buvo reikšmingos tokios valdovo suteiktos privilegijos?

Juodraštis

Tikslai:

1.

2.

Reikšmė

.....

(3 taškai)

<i>Taškai</i>	<i>Sritis</i>	<i>Laikotarpis</i>	<i>Kursas</i>
3	Lietuvos istorija	Viduriniai amžiai	B (bendrasis kursas)

<i>Taškų pasiskirstymas (%)</i>					<i>Sunkumas</i>	<i>Skiriamoji geba</i>	<i>Koreliacija</i>
<i>0</i>	<i>1</i>	<i>2</i>	<i>3</i>	<i>4</i>			
20,2	37,3	33,5	9,1		43,8	34,8	0,478

Klausimo Nr. 30

- 30.** Remdamiesi D šaltiniu ir žiniomis, įvardykite LDK centrinės valdžios instituciją, valdžiusią kartu su didžiuoju kunigaikščiu.

Juodraštis

.....

(1 taškas)

<i>Taškai</i>	<i>Sritis</i>	<i>Laikotarpis</i>	<i>Kursas</i>
1	Lietuvos istorija	Viduriniai amžiai	B (bendrasis kursas)

<i>Taškų pasiskirstymas (%)</i>			<i>Sunkumas</i>	<i>Skiriamoji geba</i>	<i>Koreliacija</i>
<i>0</i>	<i>1</i>				
53,4	46,6		46,6	83,4	0,654

Klausimo Nr. 31

- 31.** Nurodykite du didžiojo kunigaikščio Aleksandro privilegijos ištraukoje paminėtus įsipareigojimus, kurių įgyvendinimas riboja jo kaip monarcho valdžią (D šaltinis).

Juodraštis

1.
2.

(2 taškai)

<i>Taškai</i>	<i>Sritis</i>	<i>Laikotarpis</i>	<i>Kursas</i>
2	Lietuvos istorija	Viduriniai amžiai	B (bendrasis kursas)

<i>Taškų pasiskirstymas (%)</i>			<i>Sunkumas</i>	<i>Skiriamoji geba</i>	<i>Koreliacija</i>
<i>0</i>	<i>1</i>	<i>2</i>			
28,2	33,7	38,1	54,9	61,4	0,606

Klausimo Nr. 32

32. Palyginę didžiojo kunigaikščio Kazimiero privilegijos (A šaltinis) ir didžiojo kunigaikščio Aleksandro privilegijos (D šaltinis) ištraukas, nurodykite bendrą valdovų įsipareigojimą, kuriuo jie užtikrino LDK politinį savarankiškumą.

Juodraštis

.....


.....

(1 taškas)


<i>Taškai</i>	<i>Sritis</i>	<i>Laikotarpis</i>	<i>Kursas</i>
1	Lietuvos istorija	Viduriniai amžiai	B (bendrasis kursas)

<i>Taškų pasiskirstymas (%)</i>		<i>Sunkumas</i>	<i>Skiriamoji geba</i>	<i>Koreliacija</i>
<i>0</i>	<i>1</i>			
26,7	73,3	73,3	46,5	0,424


A šaltinis (Pašto ženklai)



Džordžas Stivensonas,
geležinkeliai





Džeimsas Vatas,
garo variklis



Robertas Fultonas,
1765–1965 m.

B šaltinis (XIX a. graviūra ir nuotrauka)

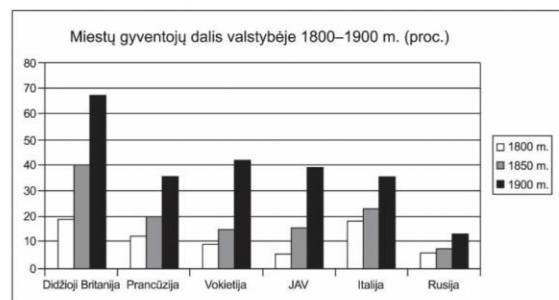
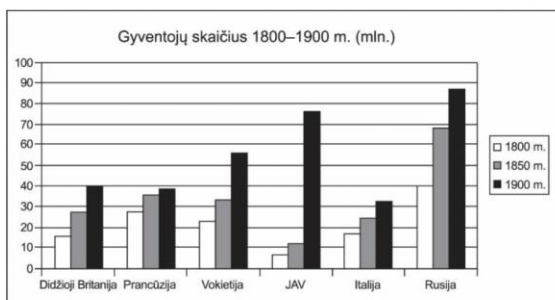


C šaltinis (Iš chartijos, priimtos Londono darbininkų 1834 m.)

Atėjo laikas, kai mes, turto ir žinių kūrėjai, nusprendėme, kad daugiau nebešvaistysime savo laiko bei darbo antračiams tikslams, kurių laimėtojai vis dėlto negali ilgiam laikui pagerinti mūsų padėties. Mes ketiname žiūrėti ne atskirų klasių ypatingos naudos, o tik bendrų ir ilgalaikių žmonijos interesų ir ateityje dėti visas pastangas, kad pasiektume tuos svarbiausius tikslus, kurie išdėstyti šioje chartijoje:

1. Progresyvinis turto mokestis, visiškai tenkinantis vyriausybės poreikius, kadangi ji valdo pagal sveiko proto taisykles. 2. Visų kitų muitų, mokesčių, nacionalinių, vietinių ir bažnytinių rinkliavų panaikinimas. [...] 5. Visapusiškai laisvas nuomonių reiškimas be jokių apribojimų. [...] 7. Mokslinis, fizinis, protinis ir moralinis lavinimas bei auklėjimas nacionaliniu mastu – visiems, kurie dėl kokios nors priežasties negali kitaip gauti gero išsilavinimo bei išsilavinimo. [...] 15. Turi būti nustatytos abiejų lyčių teisės.

D šaltinis (Gyventojų skaičius ir miestų gyventojų dalis valstybėje 1800–1900 m.)



Klausimo Nr. 33

33. Kaip vadinamas istorinis procesas, kurio bruožai atspindėti pateiktuose šaltiniuose? Paaiškinkite jo esmę.

Juodraštis

Procesas

Paaiškinimas

.....

(2 taškai)

<i>Taškai</i>	<i>Sritis</i>	<i>Laikotarpis</i>	<i>Kursas</i>
2	Pasaulio istorija	Naujieji amžiai	B (bendrasis kursas)

<i>Taškų pasiskirstymas (%)</i>				<i>Sunkumas</i>	<i>Skiriamoji geba</i>	<i>Koreliacija</i>
<i>0</i>	<i>1</i>	<i>2</i>				
30,5	34,6	35,0		52,2	59,6	0,575

Klausimo Nr. 34

34. Kuris A šaltinyje pavaizduotas išradimas¹⁶ lėmė kitus tame šaltinyje pavaizduotus išradimus? Paaiškinkite, kokią įtaką šie išradimai turėjo to meto ekonomikai.

Juodraštis

Išradimas Paaiškinimas

.....

(2 taškai)

<i>Taškai</i>	<i>Sritis</i>	<i>Laikotarpis</i>	<i>Kursas</i>
2	Pasaulio istorija	Naujieji amžiai	B (bendrasis kursas)

<i>Taškų pasiskirstymas (%)</i>				<i>Sunkumas</i>	<i>Skiriamoji geba</i>	<i>Koreliacija</i>
<i>0</i>	<i>1</i>	<i>2</i>				
4,2	19,1	76,7		86,3	27,8	0,441

Klausimo Nr. 35

- 35.** Remdamiesi B šaltiniu, nurodykite atsiradusią naują gamybos organizavimo formą ir su ja susijusią technikos naujovę.

Juodraštis

Gamybos organizavimo forma

Technikos naujovė

(2 taškai)

<i>Taškai</i>	<i>Sritis</i>	<i>Laikotarpis</i>	<i>Kursas</i>
2	Pasaulio istorija	Naujieji amžiai	B (bendrasis kursas)

<i>Taškų pasiskirstymas (%)</i>						<i>Sunkumas</i>	<i>Skiriamoji geba</i>	<i>Koreliacija</i>
<i>0</i>	<i>1</i>	<i>2</i>						
22,2	38,9	38,9				58,4	37,7	0,404

Klausimo Nr. 36

- 36.** Remdamiesi B ir C šaltiniais, nurodykite to laiko visuomenėje kilusias tris problemas, kurios paskatino Londono darbininkus priimti chartiją. Remdamiesi žiniomis, nurodykite du būdus, kaip darbo žmonės bandė spręsti šias problemas.

Juodraštis

Problemos:

1.

2.

3.

Sprendimo būdai:

1.

2.

(5 taškai)

<i>Taškai</i>	<i>Sritis</i>	<i>Laikotarpis</i>	<i>Kursas</i>
5	Pasaulio istorija	Naujieji amžiai	B (bendrasis kursas)

<i>Taškų pasiskirstymas (%)</i>						<i>Sunkumas</i>	<i>Skiriamoji geba</i>	<i>Koreliacija</i>
<i>0</i>	<i>1</i>	<i>2</i>	<i>3</i>	<i>4</i>	<i>5</i>			
11,4	13,9	20,7	26,1	17,6	10,4	51,1	40,3	0,544

Klausimo Nr. 37

37. Kokius du visuomenės raidos pokyčius rodo D šaltinio duomenys? Paaiškinkite kiekvieno pokyčio priežastis.

Juodraštis

1 pokytis
Priežastis
2 pokytis
Priežastis

(4 taškai)

<i>Taškai</i>	<i>Sritis</i>	<i>Laikotarpis</i>	<i>Kursas</i>
4	Pasaulio istorija	Naujieji amžiai	B (bendrasis kursas)

<i>Taškų pasiskirstymas (%)</i>					<i>Sunkumas</i>	<i>Skiriamoji geba</i>	<i>Koreliacija</i>
<i>0</i>	<i>1</i>	<i>2</i>	<i>3</i>	<i>4</i>			
11,0	8,8	18,6	16,2	45,4	69,1	56,4	0,644

Klausimo Nr. 38

38. Įvardykite valstybę, kurioje gyventojų skaičius ir miestų gyventojų dalis (proc.) XIX a. keitėsi greičiausiai. Atsakymą pagrįskite D šaltinio duomenimis. Remdamiesi žiniomis, nurodykite dvi priežastis, kodėl šioje valstybėje XIX a. taip sparčiai keitėsi gyventojų skaičius.

Juodraštis

Valstybė Pagrindimas
.....
Priežastys:
1.
2.

(4 taškai)

<i>Taškai</i>	<i>Sritis</i>	<i>Laikotarpis</i>	<i>Kursas</i>
4	Pasaulio istorija	Naujieji amžiai	B (bendrasis kursas)

<i>Taškų pasiskirstymas (%)</i>					<i>Sunkumas</i>	<i>Skiriamoji geba</i>	<i>Koreliacija</i>
<i>0</i>	<i>1</i>	<i>2</i>	<i>3</i>	<i>4</i>			
48,6	3,0	13,4	23,3	11,7	36,6	46	0,481

A šaltinis (Iš valstybių sutarties)

I straipsnis. Lietuvos ir SSSR draugingumui sustiprinti Vilnius ir Vilniaus sritis Sovietų Sąjungos perduodami Lietuvos Respublikai [...].

II straipsnis. Lietuvos Respublika ir Sovietų Sąjunga pasižada teikti viena kitai įvairią pagalbą, taip pat ir karinę, Lietuvos užpuolimo ar jos užpuolimo grasymo¹⁷ atveju, taip pat SSRS užpuolimo ar užpuolimo grasymo per Lietuvos teritoriją iš bet kurios Europos valstybės pusės. [...]

IV straipsnis. Lietuvos Respublika ir Sovietų Sąjunga pasižada drauge ginti Lietuvos sienas, kuriam reikalui Sovietų Sąjungai suteikiama teisė savo lėšomis laikyti bendru susitarimu nustatytoje Lietuvos Respublikos vietovėse griežtai apibrėžtą Sovietų sausumos ir orinių ginkluotų pajėgų kiekį. [...]

VII straipsnis. Šios sutarties įgyvendinimas jokių būdu neturi paliesti Susitariančiųjų Šalių suverenių teisių, ypač jų valstybinės santvarkos, ekonominės ir socialinės sistemos, karinių priemonių ir bendrai nesikišimo į vidaus reikalus dėsniu. Sovietinių sausumos ir orinių ginkluotų pajėgų buvimo vietovės (šios sutarties IV str.) visokiomis aplinkybėmis pasilieka Lietuvos Respublikos teritorijos sudedamąją dalimi.

B šaltinis (Iš ultimatumo)

Sovietų Sąjungos vyriausybė laiko absoliučiai reikalinga ir neatidėliotina:

1) kad vidaus reikalų ministras p. Skučas ir Politinės policijos departamento viršininkas p. Povilaitis nedelsiant būtų atiduoti teismui kaip tiesioginiai provokacinių veiksnių prieš Sovietų Sąjungos įgulas¹⁸ Lietuvoje kaltininkai;

2) kad nedelsiant Lietuvoje būtų sudaryta tokia vyriausybė, kuri sugebėtų ir norėtų užtikrinti Sovietų Sąjungos ir Lietuvos savitarpio pagalbos sutarties garbingą vykdymą ir ryžtingą sutarties priešų sutramdymą;

3) kad nedelsiant būtų užtikrintas laisvas įėjimas į Lietuvos teritoriją Sovietų Sąjungos kariuomenės dalinių, kurie bus įkurdinti pačiuose svarbiausiuose Lietuvos centruose, pakankamai gausių, kad galėtų užtikrinti galimumą įgyvendinti Sovietų Sąjungos ir Lietuvos savitarpio pagalbos sutartį ir užkirsti kelią provokaciniams veiksniams, nukreiptiems prieš Sovietų Sąjungos įgulas Lietuvoje.

C šaltinis (Lietuva 1939–1940 m.)



1. 2. 3. 4.

¹⁷ grasymas – zagrożenie – угроза

¹⁸ įgula – залога – команда

D šaltinis



Nubraukti lietuviški šalių pavadinimai: Estija, Latvija, Lietuva, SSSR. Rusų kalba parašyti šalių pavadinimai: Estijos SSR, Latvijos SSR, Lietuvos SSR, SSSR, ant dėžutės – „Raudoni dažai“.

Klausimo Nr. 39

39. Kaip vadinama sutartis, kurios ištrauka pateikta A šaltinyje? Kokios tarptautinės aplinkybės lėmė, kad buvo sudaryta ši sutartis?

Juodraštis

Sutartis

Aplinkybės

(2 taškai)

<i>Taškai</i>	<i>Sritis</i>	<i>Laikotarpis</i>	<i>Kursas</i>
2	Lietuvos istorija	Naujausioji istorija	B (bendrasis kursas)

<i>Taškų pasiskirstymas (%)</i>				<i>Sunkumas</i>	<i>Skiriamoji geba</i>	<i>Koreliacija</i>
<i>0</i>	<i>1</i>	<i>2</i>				
32,6	46,6	20,8		44,1	57,2	0,630

Klausimo Nr. 40

40. Ką Lietuva įsipareigojo Sovietų Sąjungai, pasirašydama sutartį (A šaltinis)? Įvertinkite Lietuvos valstybingumo padėtį po sutarties pasirašymo.

Juodraštis

Įsipareigojimai:

1.

2.

Įvertinimas

.....

(3 taškai)

<i>Taškai</i>	<i>Sritis</i>	<i>Laikotarpis</i>	<i>Kursas</i>
3	Lietuvos istorija	Naujausioji istorija	B (bendrasis kursas)

<i>Taškų pasiskirstymas (%)</i>				<i>Sunkumas</i>	<i>Skiriamoji geba</i>	<i>Koreliacija</i>
<i>0</i>	<i>1</i>	<i>2</i>	<i>3</i>			
3,8	21,3	41,7	33,2	68,1	44,2	0,645

Klausimo Nr. 41

- 41.** Kuriais skaičiais pažymėti du žemėlapiu sutartiniai ženklai (C šaltinis) tiesiogiai atspindi dviejų atitinkamų sutarties straipsnių (A šaltinis) įgyvendinimą?

Juodraštis

Sutartinis ženklas – sutarties straipsnis. Sutartinis ženklas – sutarties straipsnis.

(4 taškai)

<i>Taškai</i>	<i>Sritis</i>	<i>Laikotarpis</i>	<i>Kursas</i>
4	Lietuvos istorija	Naujausioji istorija	B (bendrasis kursas)

<i>Taškų pasiskirstymas (%)</i>					<i>Sunkumas</i>	<i>Skiriamoji geba</i>	<i>Koreliacija</i>
<i>0</i>	<i>1</i>	<i>2</i>	<i>3</i>	<i>4</i>			
5,5	10,3	26,8	27,4	30,1	66,6	43,4	0,601

Klausimo Nr. 42

- 42.** Kuo SSRS valdžia oficialiai kaltino Lietuvą, įteikdama ultimatumą (B šaltinis)? Kokia buvo tikroji ultimatumo įteikimo priežastis?

Juodraštis

Kaltinimas
Tikroji priežastis

(2 taškai)

<i>Taškai</i>	<i>Sritis</i>	<i>Laikotarpis</i>	<i>Kursas</i>
2	Lietuvos istorija	Naujausioji istorija	A (išplėstinis kursas)

<i>Taškų pasiskirstymas (%)</i>				<i>Sunkumas</i>	<i>Skiriamoji geba</i>	<i>Koreliacija</i>
<i>0</i>	<i>1</i>	<i>2</i>				
7,4	34,2	58,4		75,5	41,5	0,540

Klausimo Nr. 43

- 43.** Palyginę A ir B šaltinius, nurodykite, kurią sutarties nuostatą pažeidė SSRS. Savo atsakymą pagrįskite dviem B šaltinio argumentais.

Juodraštis

Nuostata

Argumentai:

1.

2.

(3 taškai)

<i>Taškai</i>	<i>Sritis</i>	<i>Laikotarpis</i>	<i>Kursas</i>
3	Lietuvos istorija	Naujausioji istorija	A (išplėstinis kursas)

<i>Taškų pasiskirstymas (%)</i>				<i>Sunkumas</i>	<i>Skiriamoji geba</i>	<i>Koreliacija</i>
<i>0</i>	<i>1</i>	<i>2</i>	<i>3</i>			
16,3	16,1	15,3	52,3	67,9	61,3	0,637

Klausimo Nr. 44

- 44.** Nurodykite pagrindinę D šaltinio mintį ir ją pagrįskite dviem pasirinktomis šio šaltinio detalėmis.

Juodraštis

Pagrindinė mintis

Detalės:

1.

2.

(3 taškai)

<i>Taškai</i>	<i>Sritis</i>	<i>Laikotarpis</i>	<i>Kursas</i>
3	Lietuvos istorija	Naujausioji istorija	B (bendrasis kursas)

<i>Taškų pasiskirstymas (%)</i>				<i>Sunkumas</i>	<i>Skiriamoji geba</i>	<i>Koreliacija</i>
<i>0</i>	<i>1</i>	<i>2</i>	<i>3</i>			
5,3	8,4	18,7	67,6	82,9	38,4	0,550

Klausimo Nr. 45

45. Kurie du šaltiniai pagal savo turinį yra artimai susiję, bet skiriasi juose išreikštu požiūriu? Atsakymą pagrįskite, remdamiesi pasirinktais šaltiniais.

Juodraštis

Šaltiniai: ir Pagrindimas

.....

.....

.....

(2 taškai)

<i>Taškai</i>	<i>Sritis</i>	<i>Laikotarpis</i>	<i>Kursas</i>
2	Lietuvos istorija	Naujausioji istorija	A (išplėstinis kursas)

<i>Taškų pasiskirstymas (%)</i>				<i>Sunkumas</i>	<i>Skiriamoji geba</i>	<i>Koreliacija</i>
<i>0</i>	<i>1</i>	<i>2</i>				
21,5	39,8	38,7		58,6	42,3	0,450

A šaltinis (Karikatūra „Dresuotojo Chruščiovo problema“)



Ant pakylų užrašyta (nuo arčiausiai stovinčios):
Jugoslavija, Čekoslovakija, Lenkija, Vengrija,
Albanija, Bulgarija.

B šaltinis (Karikatūra „Medžioklės sezonas prasidėjo“)



Medžiotojai: L. Brežnevas (SSRS), J. Kadaras (Vengrija).
Šunys: V. Ulbrichtas (VDR), T. Živkovas (Bulgarija),
V. Gomulka (Lenkija).
Kiškis: A. Dubčekas (Čekoslovakija).

C šaltinis (Iš Leonido Brežnevo kalbos 1968 m.)

Sovietų Sąjunga daug prisidėjo realiai įtvirtinant socialistinių šalių suverenitetą. Sovietų Sąjungos komunistų partija visada buvo už tai, jog kiekviena socialistinė valstybė, atsižvelgdama į nacionalines sąlygas, nusistatytų konkrečias savo vystymosi socializmo keliu formas. Bet egzistuoja taip pat bendri socializmo statybos dėsningumai ir atsitraukimas nuo jų galėtų reikšti atsitraukimą nuo socializmo apskritai.

Kada priešiškos socializmui vidaus ir išorės jėgos siekia kurios nors šalies raidą pasukti kapitalizmo restauracijos kryptimi ir kada iškyla pavojus socializmui toje šalyje ar pavojus visam socializmo sandraugos saugumui, tai tampa jau ne tik tos šalies liaudies problema, bet ir bendra problema, visų socialistinių šalių rūpesčiu.

D šaltinis (Iš Lenkijos vadovo generolo Voicecho Jaruzelskio atsiminimų apie 1981 m. gruodžio įvykius)

Telefonu paskambino draugas Brežnevas, kuris su simpatija žiūri į mus ir į tai, kaip mes sėkmingai įsitraukėme į kovą su kontrevoliucija. Tai buvo sunkūs, bet teisingi sprendimai. Mano kalba buvo labai įvertinta. Jis patikino, kad galime tikėtis ekonominės pagalbos. Mūsų pasirinktas momentas buvo paskutinis ir optimalus, nes prieš tai situacija ėjo blogyn, užgriuvo negatyvių procesų lavina [...]. Valstybės taryboje priimtas sprendimas dėl karo padėties buvo vieningas. Nėra kalbos apie valdžios nuvertimą. Teisiškai egzistuojanti valdžia įvedė priemones valstybei apsaugoti. Tai yra argumentai Vakarams.

Klausimo Nr. 46

- 46.** Apibūdinkite A šaltinio autoriaus požiūrį į Vidurio ir Rytų Europoje susiklosčiusius tarpvalstybinius santykius. Dviem pasirinktomis karikatūros detalėmis pagrįskite, kaip šios detalės padeda išryškinti autoriaus požiūrį.

Juodraštis

Požiūris

Pagrindimas:

1.

2.

(3 taškai)

<i>Taškai</i>	<i>Sritis</i>	<i>Laikotarpis</i>	<i>Kursas</i>
3	Pasaulio istorija	Naujausioji istorija	A (išplėstinis kursas)

<i>Taškų pasiskirstymas (%)</i>				<i>Sunkumas</i>	<i>Skiriamoji geba</i>	<i>Koreliacija</i>
<i>0</i>	<i>1</i>	<i>2</i>	<i>3</i>			
38,1	34,4	20,2	7,3	32,2	37,3	0,491

Klausimo Nr. 47

- 47.** Kelintų metų įvykiai pavaizduoti A šaltinyje? Remdamiesi žiniomis, pagrįskite atsakymą.

Juodraštis

Metai Pagrindimas

.....

(2 taškai)

<i>Taškai</i>	<i>Sritis</i>	<i>Laikotarpis</i>	<i>Kursas</i>
2	Pasaulio istorija	Naujausioji istorija	A (išplėstinis kursas)

<i>Taškų pasiskirstymas (%)</i>				<i>Sunkumas</i>	<i>Skiriamoji geba</i>	<i>Koreliacija</i>
<i>0</i>	<i>1</i>	<i>2</i>				
73,2	14,4	12,5		19,7	46,9	0,548

Klausimo Nr. 48

48. Nurodykite B šaltinyje pavaizduotą istorinį įvykį. Kelintais metais jis vyko?

Juodraštis

Įvykis Metai

(2 taškai)

<i>Taškai</i>	<i>Sritis</i>	<i>Laikotarpis</i>	<i>Kursas</i>
2	Pasaulio istorija	Naujausioji istorija	A (išplėstinis kursas)

<i>Taškų pasiskirstymas (%)</i>					<i>Sunkumas</i>	<i>Skiriamoji geba</i>	<i>Koreliacija</i>
<i>0</i>	<i>1</i>	<i>2</i>					
55,3	23,1	21,7			33,2	66	0,647

Klausimo Nr. 49

49. C šaltinyje raskite ir nurodykite du teiginius, kurie neteisingai atspindėjo to meto politinę tikrovę. Remdamiesi žiniomis, pagrįskite, kodėl jūsų nurodyti teiginiai neatitiko tikrovės.

Juodraštis

Teiginys

Pagrindimas

Teiginys

Pagrindimas

(4 taškai)

<i>Taškai</i>	<i>Sritis</i>	<i>Laikotarpis</i>	<i>Kursas</i>
4	Pasaulio istorija	Naujausioji istorija	A (išplėstinis kursas)

<i>Taškų pasiskirstymas (%)</i>						<i>Sunkumas</i>	<i>Skiriamoji geba</i>	<i>Koreliacija</i>
<i>0</i>	<i>1</i>	<i>2</i>	<i>3</i>	<i>4</i>				
17,6	26,4	33,1	16,9	5,9		41,8	43,8	0,634

Klausimo Nr. 50

- 50.** C šaltinyje išsakytos idėjos žinomos kaip Brežnevo doktrina. Užrašykite doktrinos pagrindinę mintį ir paaiškinkite, kaip šios doktrinos įgyvendinimas atsispindi B šaltinyje.

Juodraštis

Pagrindinė mintis

Paaiškinimas

(2 taškai)

<i>Taškai</i>	<i>Sritis</i>	<i>Laikotarpis</i>	<i>Kursas</i>
2	Pasaulio istorija	Naujausioji istorija	A (išplėstinis kursas)

<i>Taškų pasiskirstymas (%)</i>			<i>Sunkumas</i>	<i>Skiriamoji geba</i>	<i>Koreliacija</i>
<i>0</i>	<i>1</i>	<i>2</i>			
69,5	17,8	12,7	21,6	55,3	0,631

Klausimo Nr. 51

- 51.** Remdamiesi žiniomis, atsakykite, kurio judėjimo ir kokius veiksmus D šaltinio autorius įvardijo žodžiu „kontrevoliucija“.

Juodraštis

Judėjimas

Veiksmai

(2 taškai)

<i>Taškai</i>	<i>Sritis</i>	<i>Laikotarpis</i>	<i>Kursas</i>
2	Pasaulio istorija	Naujausioji istorija	A (išplėstinis kursas)

<i>Taškų pasiskirstymas (%)</i>			<i>Sunkumas</i>	<i>Skiriamoji geba</i>	<i>Koreliacija</i>
<i>0</i>	<i>1</i>	<i>2</i>			
79,1	14,1	6,7	13,8	41,1	0,587

Klausimo Nr. 52

52. Kuriam 1981 m. gruodžio mėnesio įvykiui pateisinti skirta V. Jaruzelskio atsiminimų ištrauka (D šaltinis)? Remdamiesi žiniomis, paaiškinkite, kodėl buvo pasirinkta būtent tokia priemonė.

Juodraštis

Įvykis

Paaiškinimas

.....

(2 taškai)

<i>Taškai</i>	<i>Sritis</i>	<i>Laikotarpis</i>	<i>Kursas</i>
2	Pasaulio istorija	Naujausioji istorija	A (išplėstinis kursas)

<i>Taškų pasiskirstymas (%)</i>				<i>Sunkumas</i>	<i>Skiriamoji geba</i>	<i>Koreliacija</i>
<i>0</i>	<i>1</i>	<i>2</i>				
90,0	6,9	3,0		6,5	20,2	0,425

Klausimo Nr. 53

53. Padarykite dvi išvadas apie režimų pasikeitimą Vidurio ir Rytų Europoje XX a. devintojo ir dešimtojo dešimtmečių sandūroje.

Juodraštis

1.

.....

2.

.....

(2 taškai)

<i>Taškai</i>	<i>Sritis</i>	<i>Laikotarpis</i>	<i>Kursas</i>
2	Pasaulio istorija	Naujausioji istorija	A (išplėstinis kursas)

<i>Taškų pasiskirstymas (%)</i>				<i>Sunkumas</i>	<i>Skiriamoji geba</i>	<i>Koreliacija</i>
<i>0</i>	<i>1</i>	<i>2</i>				
70,4	28,2	1,5		15,5	32,3	0,522